

## 1 3けたの数

05

なん百という大きな数

- ① タイル・ことば・数字
- ② 数のじゅんじょ
- ③ どっちが大きい?
- ④ <、>、=とたし算・ひき算

## 2 3けたのたし算

15

- ① くり上がりのないたし算
- ② くり上がりのあるたし算

## 3 3けたのひき算

23

- ① くり下がりのないひき算
- ② くり下がりのあるひき算



## 4 4けたの数

33

なん千という大きな数

- ① 4けたの数のあらわしかた
- ② 4けたの数のじゅんじょ
- ③ どちらの数が多い?
- ④ 4けたのたし算
- ⑤ 4けたのひき算

## 5 水のかさ

51

- ① デシリットル
- ② 大きなます、リットルます
- ③ 小さいかさ、ミリリットル

## 6 長さ

66

- ① センチメートル
- ② メートル
- ③ 長さのたし算・ひき算
- ④ みじかい長さ、ミリメートル

## 7 かけ算

83

- ① 1あたりの数、いくつぶん
- ② 5のだん
- ③ 2のだん
- ④ 7のだん
- ⑤ 1のだん
- ⑥ 6のだん
- ⑦ 3のだん
- ⑧ 8のだん
- ⑨ 4のだん
- ⑩ 9のだん
- ⑪ 0のだん
- ⑫ 水のかさ、長さのかけ算
- ⑬ かけ算九九のひょう


## 8 たし算とひき算のぶんしょうだい 107

- テープ図をつかって
- ① ぶんしょうだい (その1)
  - ② ぶんしょうだい (その2)


1

## 3けたの数


なん百という大きな数



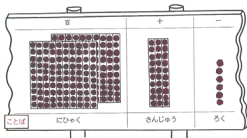
●を10こずつならべて、それを10ずつまとめるよ。



十が10あつまるとして、  
百を2つあつめた数を二百と  
いうんだよ。

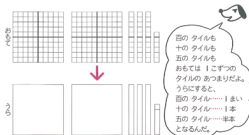


●の数は百が( )つ、十が( )つ、一が( )つ。



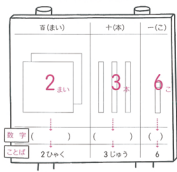
●の数は ことばでいうと みんなで ( )こです。 二百三十六は 数字で かくと ( )。

●の数を タイルであらわすよ。



百のタイルも  
十のタイルも  
五のタイルも  
おもては1こずつの  
タイルのあつまりだよ。  
うらにすると、  
百のタイル……1まい  
十のタイル……1本  
五のタイル……半本  
となるんだ。

タイルを けいじばんに はると、



百のタイル  
2まいは二百。  
十のタイル  
3本は三十。  
一のタイル  
6こは六。  
2まい3本6こは、  
二百三十六。  
これを数字で  
かくと、  
236だ。  
かいてごらん。

# 1 タイル・ことば・数字

いろいろな花を野原でつみました。つんだ花の数を( )のなかに、タイル・ことば・数字でかきなさい。

	百	十	一
タイル	3まい	4本	7本
ことば	三百	四十	七
数字	3	4	7



わたしはたんぽぽの花をつんだの。その数をタイルであらわたんだよ。ことばと数字もかいたよ。

ぼくがつんだの花の数をタイルであらわたよ。ことばと数字をかいてね。プー。プー。

	百	十	一
タイル	3まい	5本	4本
ことば	( )	( )	( )
数字	( )	( )	( )

数のことばをよんで数字をかいてごらん。

- ① 八百七十四 ( )    ② 百七十 ( )    ③ 九百 ( )

数字をよんでことばをかきましょう。

- ① 753 ( )    ② 803 ( )    ③ 500 ( )

	百	十	一
タイル		3本	2本
ことば	( )	( )	( )
数字	1	3	2



おいらはすいせんの花をつんだんだ。数字でかいたのでタイルとことばをかいてみな。ワンワン。

わたしはすみれの花よ。タイルと数字をかいてね。ニャーニャー。



	百	十	一
タイル	2まい	5本	3本
ことば	二百	( )	( )
数字	( )	( )	( )

	百	十	一
タイル	4まい		
ことば	( )	( )	( )
数字	( )	( )	( )

おいらはチューリップをとってきたぞ。ことばと数字をかいてね。カーカー。

